

Ujian Akhir Sekolah Tahun 2004 Ilmu Pengetahuan Sosial

UAS-SMP-04-01

TABEL MACAM-MACAM KEBUTUHAN

Manusia Purba	Suku Terpencil	Masyarakat Modern
Makanan Pakaian Tempat tinggal Senjata	Makanan Pakaian Tempat tinggal Peralatan sederhana	Makanan Pakaian Tempat tinggal Pendidikan Hiburan Alat transportasi modern Alat komunikasi cepat (tidak terbatas)

Jika diperhatikan tabel di atas, maka dapat disimpulkan bahwa dewasa ini kebutuhan manusia tidak terbatas, dikarenakan ...

- jumlah penduduk, kemajuan cara berpikir, dan kemajuan iptek
- jumlah penduduk, perbedaan komunitas, dan tingkat kesejahteraan
- jumlah penduduk, peradaban, dan kemampuan ekonomi
- jumlah penduduk, tingkat kesejahteraan, dan pendapatan

UAS-SMP-04-02

Perhatikan pernyataan-pernyataan di bawah ini

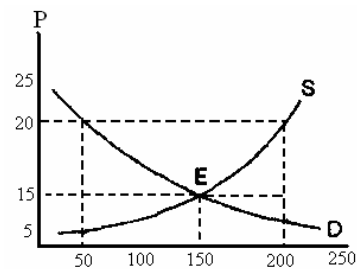
- Pemilik modal lebih dari satu orang
- Pemilik modal adalah pengelola perusahaan
- Terdapat sekutu aktif dan sekutu diam
- Modal perusahaan berupa saham
- Kekayaan pribadi menjadi jaminan
- Kekuasaan tertinggi berada pada RUPS
- Perusahaan dikelola oleh Dewan Direksi
- Laba perusahaan disebut deviden

Dari pernyataan di atas, yang termasuk ciri perusahaan berbentuk Perseroan Terbatas (PT) ditunjukkan oleh nomor ...

- 1, 2, 3, 4, 7
- 1, 3, 5, 7, 8
- 1, 4, 6, 7, 8
- 1, 5, 6, 7, 8

UAS-SMP-04-03

KURVA PENAWARAN



Harga Keseimbangan ditunjukkan oleh ...

- P20 ; Q200
- P20 ; Q50
- P15 ; Q200
- P15 ; Q150

UAS-SMP-04-04

Daftar pengeluaran:

- Gaji pegawai dan alat kantor
- Pajak langsung
- Subsidi daerah
- Pajak tidak langsung
- Belanja perjalanan dinas

Dari daftar di atas yang termasuk jenis pengeluaran rutin ...

- 1, 2, 3
- 1, 2, 4
- 1, 2, 5
- 1, 3, 5

UAS-SMP-04-05

Perhatikan data berikut!

- Pendaftaran koperasi sekolah
- Rapat anggota koperasi sekolah
- Pengesahan koperasi sekolah
- Pembentukan panitia

Urutan tahapan pembentukan koperasi sekolah adalah ...

- 1, 2, 3, 4
- 4, 2, 1, 3
- 4, 3, 2, 1
- 2, 4, 3, 1

UAS-SMP-04-06

Rumus untuk menghitung pendapatan perkapita adalah sebagai berikut ...

- $PCI = NNP - Pajak$
- $PCI = GNP - Penyusutan$
- $PCI = \frac{\text{Produksi Nasional netto}}{\text{Jumlah penduduk}}$
- $PCI = \frac{\text{Produksi Nasional}}{\text{Jumlah penduduk}}$

UAS-SMP-04-07

Tuan Kanto seorang guru dengan penghasilan sebesar Rp 1.500.000,00 per bulan dan telah menikah. Istrinya tidak bekerja dan mempunyai seorang anak. Pajak penghasilan (PPH 15%) yang harus dibayar Tuan Kanto per tahun adalah ...

- A. Rp 2.186.100,00
- B. Rp 1.181.600,00
- C. Rp 2.118.600,00
- D. Rp 2.181.000,00

UAS-SMP-04-08

Jenis-jenis uang giral

- 1. giro bilyet
- 2. deposito
- 3. sertifikat bank Indonesia
- 4. kartu kredit
- 5. cek
- 6. obligasi

Yang termasuk uang giral kelompok *demand deposit money* ...

- A. 1,2,3
- B. 1,3,5
- C. 1,4,5
- D. 2,3,6

UAS-SMP-04-09

Di bawah ini Lembaga Keuangan Bukan Bank yang tergolong Lembaga Keuangan Dana Bersama (Mutual Fund), *kecuali* ...

- A. koperasi simpan pinjam
- B. pegadaian
- C. bursa saham
- D. dana pensiun

UAS-SMP-04-10

Pembatasan volume impor barang dalam waktu tertentu dengan tujuan memberi proteksi terhadap produksi dalam negeri disebut ...

- A. tarif
- B. kuota impor
- C. embargo
- D. proteksi

UAS-SMP-04-11

Modal sebesar Rp 75.499,70 dibungakan selama 8 bulan dengan bunga 24% pertahun. Bunga uang dari modal tersebut adalah ...

- A. Rp. 12.080,00
- B. Rp. 12.800,00
- C. Rp: 12.880,00
- D. Rp. 12.888,00

UAS-SMP-04-12

Tuan Eka membeli 40 peti jeruk dengan perincian berat sebagai berikut:

- 10 peti masing-masing beratnya 28 kg
- 10 peti masing-masing beratnya 25 kg
- 15 peti masing-masing beratnya 22 kg
- 5 peti masing-masing beratnya 20 kg

Dalam faktur pembelian tertera, potongan Tarra 3%, Tarra Ekstra 3% dan Rafaksi 5%.

Berat netto jeruk tersebut adalah ...

- A. 585 kg
- B. 588 kg
- C. 855 kg
- D. 858 kg

UAS-SMP-04-13

Untuk membuat 20 unit baju seragam dibutuhkan:

- Kain tetoron 50 m @ Rp 10.000,00
- Benang seharga Rp 15.000,00
- Kancing seharga Rp 5.000,00
- Upahmenjahit 2 orang Rp 50.000,00

Biaya produksi tiap 1 (satu) unit seragam adalah ...

- A. Rp 31.000,00
- B. Rp 36.000,00
- C. Rp 41.000,00
- D. Rp 46.000,00

UAS-SMP-04-14

Tuan Bobi Saptari menyuruh seorang Komisioner untuk menjual cengkih dengan berat netto 450 kg dengan harga @ Rp. 11.000,00. Dalam Faktur Penjualan tertera: Rabat 10%, potongan tunai 2%. Biaya lelang 0%, ongkos-ongkos Rp 35.000,00 dan komisi 7%. Harga jual bersih?

- A. Rp 4.025.000,00
- B. Rp 4.025.200,00
- C. Rp 4.025.287,00
- D. Rp 4.025.300,00

UAS-SMP-04-15

Rumus untuk mencari Lama Rata-rata adalah $\frac{L1 + Ln}{2}$

Rumus mencari Lama Rata-rata di atas digunakan mencari Lama Rata-rata pada ...

- A. modal sama, persen bunga sama
- B. modal sama, persen bunga berbeda
- C. modal berbeda, persen bunga sama
- D. jarak tiap angsuran sama

UAS-SMP-04-16

Yang dimaksud dengan atlas adalah ...

- A. kumpulan beberapa peta dalam bentuk buku
- B. kumpulan beberapa peta dalam bentuk datar
- C. kumpulan beberapa peta dalam bentuk bulat
- D. kumpulan beberapa gambar dalam bentuk buku

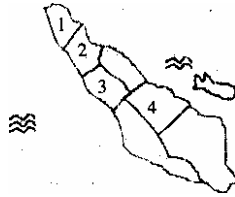
UAS-SMP-04-17

Yang termasuk unsur cuaca dan iklim adalah ...

- A. temperatur udara dan matahari
- B. curah hujan dan kelembaban udara
- C. curah hujan dan matahari
- D. kelembaban udara dan matahari

UAS-SMP-04-18

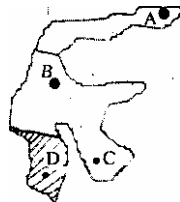
Perhatikan peta di samping!
Suku bangsa Batak, Nias dan Melayu, mendiami daerah pada nomor ...



- A. 1
- B. 2
- C. 3
- D. 4

UAS-SMP-04-19

Pada Peta disamping, daerah yang diarsir merupakan objek wisata, berupa kebiidayaan ...



- A. Tanah Toraja
- B. Minahasa
- C. Bugis
- D. Menado

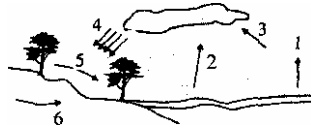
UAS-SMP-04-20

Yang termasuk tanah kurang subur adalah ...

- A. tanah latent, vulkanis, humus
- B. tanah laterit, podsolik, kapur
- C. tanah vulkanis, humus, alluvial
- D. tanah vulkanis, podsolik, kapur

UAS-SMP-04-21

Pada gambar di samping presipitasi ditunjukkan pada nomor ...



- A. 1
- B. 2
- C. 3
- D. 4

UAS-SMP-04-22

Benua yang keseluruhannya terletak di belahan bumi selatan adalah ...

- A. Asia dan Australia
- B. Afrika dan Amerika
- C. Australia dan Antartika
- D. Eropa dan Australia

UAS-SMP-04-23

Gurun yang terdapat di benua Afrika adalah ...

- A. Ghobi, Thar, Sahara
- B. Sahara, Kalahari, Libia
- C. Kalahari, An Nahfud, Sahara
- D. Rub Al Khali, Arab, Sahara

UAS-SMP-04-24

0. listrik tenaga air mudah didapat
 0. luasnya lahan pertanian
 0. tenaga buruh banyak dan terlatih
 0. semangat dan kerja keras penduduknya
 0. tersedianya cukup sumber daya alam

Yang termasuk faktor pendukung keberhasilan industri Jepang ditunjukkan oleh ...

- . 1, 2, 3
- . 1, 3, 4
- . 1, 4, 5
- . 3, 4, 5

UAS-SMP-04-25

Wilayah yang dijuluki anak benua Asia ...

- A. Turki
- B. Asia barat
- C. Cina
- D. India

UAS-SMP-04-26

Potensi alam dunia di daerah pegunungan antara lain ...

- . kehutanan dan air terjun
- . mineral dan banyak batuan
- . objek wisata dan padang rumput
- . sarana olah raga dan udara dingin

UAS-SMP-04-27

Usaha pelestarian kekayaan alam dapat dilakukan dengan cara ...

- A. penghematan, pemanfaatan dan pemeliharaan
- B. penghematan, pembaharuan dan perlindungan
- C. pemanfaatan, pemeliharaan dan pembaharuan
- D. pembaharuan, perlindungan dan pemeliharaan

UAS-SMP-04-28

Benua Asia dan benua Eropa dibatasi oleh ...

- A. pegunungan Ural
- B. pegunungan Kaukasus
- C. pegunungan Kilimanjaro
- D. pegunungan Kwen Lun

UAS-SMP-04-29

Istilah negara maju dan berkembang disebabkan adanya perbedaan dalam hal ...

- A. sumber daya alam
- B. kemajuan di bidang ekonomi
- C. sumber energi
- D. kesuburan tanah

UAS-SMP-04-30

Organisasi internasional yang menangani masalah buruh ...

- A. FAO
- B. ILO
- C. WHO
- D. ITO

UAS-SMP-04-31

Jaman sejarah di Indonesia dimulai sejak ...

- A. berlangsungnya penyebaran bangsa dan budaya Melayu Austronesia ke Nusantara
- B. masuk dan berkembangnya pengaruh peradaban dunia Barat ke Nusantara
- C. ditemukannya fosil manusia purba di Desa Trinil
- D. ditemukannya prasasti di Kutai

UAS-SMP-04-32

Faktor utama penyebab perpindahan kerajaan Mataram Lama dari Jawa Tengah ke Jawa Timur ...

- A. bencanaalam
- B. perebutan kekuasaan
- C. peperangan
- D. pergantian dinasti

UAS-SMP-04-33

Pada sekitar abad ke-7 sampai abad ke-11 Kerajaan Sriwijaya menjadi pusat perdagangan di Nusantara. Hal ini disebabkan oleh ...

- A. Kerajaan Sriwijaya merupakan kerajaan maritim
- B. Letak Kerajaan Sriwijaya di dekat Selat Malaka
- C. Kerajaan Sriwijaya memiliki pelaut-pelaut ulung
- D. mata pencaharian utama masyarakatnya adalah perdagangan

UAS-SMP-04-34

Dari berbagai pernyataan yang ada berikut ini, manakah yang paling sesuai dengan masalah penyebaran Islam di Indonesia ...?

- A. kebudayaan Islam mengalami berbagai kesulitan berasimilasi dengan kebudayaan Hindu-Budha yang telah ada sebelumnya
- B. kebudayaan Islam menambah kekayaan dan memperluas kebudayaan Indonesia
- C. kebudayaan Islam menyingkirkan kebudayaan yang telah ada sebelumnya
- D. kebudayaan Islam berkembang sendiri tanpa mengganggu kebudayaan lain

UAS-SMP-04-35

Peran Vasco Da Gama bagi penjelajahan samudera bangsa Eropa adalah ...

- A. menentukan jalur pelayaran sampai ke Tanjung Harapan Baik
- B. merintis jalur pelayaran ke wilayah Amerika Serikat
- C. membuka jalur perdagangan ke India
- D. menaklukan Goa

UAS-SMP-04-36

Dalam sebagian kasus, taktik divide et impera VOC berhasil menaklukan kerajaan-kerajaan di Nusantara, karena ...

- A. rakyat Nusantara belum siap bersatu mengusir VOC.
- B. masing-masing kerajaan melakukan pelayaran demi kepentingan Nusantara
- C. taktik itu sesuai dengan kepentingan monopoli perdagangan VOC.
- D. VOC memiliki tekad untuk menaklukan wilayah Nusantara dengan kekuatan militer

UAS-SMP-04-37

Antara Revolusi Amerika dan Revolusi Perancis terdapat satu persamaan, yaitu ...

- A. melepaskan diri dari penjajahan
- B. melepaskan diri dari raja yang absolute
- C. memperjuangkan hak asasi manusia
- D. bentuk perjuangan kaum borjuis

UAS-SMP-04-38

Salah satu faktor munculnya golongan terpelajar pada awal abad ke 20 bagi bangsa Indonesia adalah ...

- A. dilaksanakannya politik etis
- B. dibentuknya Budi Utomo
- C. kesadaran terhadap pentingnya pendidikan
- D. lahirnya kesadaran nasional di kalangan kaum bangsawan

UAS-SMP-04-39

Serikat Islam yang berdiri pada tahun 1912 dalam waktu yang relatif singkat dapat berkembang menjadi gerakan massal yang memiliki banyak anggota, karena ...

- A. SI mendapat restu dan perlindungan dari pemerintah kolonial
- B. mayoritas dari penduduk di Indonesia beragama Islam
- C. SI berhasil mengaktifkan cabang-cabangnya di seluruh Indonesia
- D. SI lebih memiliki sifat nasional daripada organisasi lainnya yang ada pada waktu itu

UAS-SMP-04-40

Alasan para pemuda mendesak agar para pemimpin berjuang secepatnya memproklamasikan kemerdekaan Indonesia adalah ...

- A. menurut janji kemerdekaan dari Jepang
- B. Jepang telah kalah dan menyerah kepada sekutu
- C. Belanda memiliki keinginan untuk kembali ke Indonesia
- D. Para pemimpin pergerakan bersikap ragu

UAS-SMP-04-41

Peta di bawah ini yang merupakan wilayah RI menurut perjanjian Linggarjati ditunjukkan oleh nomor ...



- A. 1, 2, 3
- B. 2, 3, 4
- C. 3, 4, 5
- D. 4, 5, 1

UAS-SMP-04-42

Keuntungan politis yang diperoleh Indonesia dari penyelenggara KAA adalah ...

- A. Timor-Timur berintegrasidengan Indonesia pada tahun 1975
- B. Irian Barat kembali ke pangkuan RI pada tahun 1963
- C. Filipina melepaskan tuntutannya atas wilayah Sabah
- D. Malaysia melakukan normalisasi hubungan dengan Indonesia

UAS-SMP-04-43

Salah satu dasar bagi Indonesia untuk tidak menjadi anggota Blok Barat maupun Blok Timur adalah ...

- A. Indonesia ingin mewujudkan perdamaian dunia
- B. Indonesia merupakan Negara yang sedang berkembang
- C. Menjadi perhatian pusat dunia internasional
- D. Membentuk organisasi baru selain Blok Barat Blok Timur

UAS-SMP-04-44

Organisasi-organisasi di bawah ini yang merupakan organisasi regional adalah ...

- A. OKI
- B. OPEC
- C. PBB
- D. ASEAN

UAS-SMP-04-45

Amerika Serikat menetapkan wilayah Irak Selatan sebagai No Fly Zone pada waktu Peran'g Teluk bagi pesawat-pesawat Irak. No Fly Zone artinya ...

- A. daerah bebas hambatan
- B. batas daerah penerbangan
- C. daerah larangan terbang
- D. batas penentuan jam terbang

URAIAN

UAS-SMP-04-46

Jelaskan mengapa dalam dunia perdagangan modern, penggunaan uang giral lebih populer dibanding penggunaan uang kartal!

UAS-SMP-04-47

Bu Hendah membeli sebuah TV 29 inchi dengan harga Rp. 3.400.000,00 tetapi Bu Hendah membelinya dengan cara angsuran dengan ketentuan sebagai berikut:

- a. Uang muka Rp 500.000,00
- b. Angsuran 24 kali @ Rp. 150.000,00 bulanan
- c. Angsuran pertama dibayar I (satu) bulan setelah penyerahan barang

Hitunglah berapa persen Bunga dan Premi Resiko yang ditanggung Bu Hendah?

UAS-SMP-04-48

Sebutkan tiga usaha untuk melestarikan sumber daya alam!.

UAS-SMP-04-49

Jelaskan mengapa negara-negara Kelompok Selatan yang merupakan pemilik sumber daya alam, justru menjadi Kelompok Negara Berkembang (Negara Miskin)?

UAS-SMP-04-50

Jelaskan dampak dari PD II terhadap perubahan dan perkembangan kekuatan politik di dunia!