

Ujian Akhir Sekolah Tahun 2003 Ilmu Pengetahuan Sosial

UAS-SMP-03-01

Peta adalah ...

- A. gambaran sebagian permukaan tanah di bumi dengan segala isinya
- B. gambar permukaan tanah terutama bagian-bagian yang sangat vital
- C. gambaran tentang permukaan bumi pada bidang datar dengan skala tertentu
- D. gambar bumi kita pada bidang datar terutama bagian penting

UAS-SMP-03-02

Yang termasuk unsur cuaca dan iklim di antaranya ...

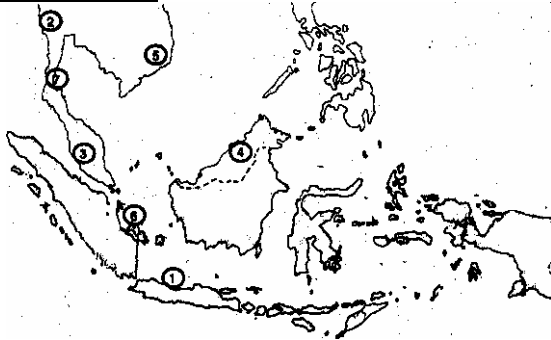
- A. vegetasi, tekanan udara, dan suhu
- B. tekanan udara, vegetasi, dan kelembapan udara
- C. kelembapan udara, vegetasi, dan suhu udara
- D. suhu udara, tekanan udara, dan kelembapan udara

UAS-SMP-03-03

Berikut ini yang termasuk ciri kebudayaan daerah adalah ...

- A. kegiatan sosial dan kemasyarakatan
- B. kegiatan ekonomi dan olahraga
- C. hukum dan sistem kekuasaan
- D. kepercayaan dan mata pencaharian

UAS-SMP-03-04



Berdasarkan peta di atas, negara-negara pendiri organisasi ASEAN ditunjukkan dengan nomor ...

- A. 2, 4, 5, 6, 7
- B. 1, 3, 4, 6, 7
- C. 1, 2, 3, 4, 5
- D. 2, 3, 4, 5, 6

UAS-SMP-03-05

Perbedaan antara jenis tanah vulkanis dengan tanah aluvial adalah ...

- A. tanah vulkanis berasal dari hasil pengendapan sedangkan tanah aluvial berasal dari abu gunung api yang terdiri dari tanah pasir
- B. tanah vulkanis berasal dari tumbuh-tumbuhan yang telah membusuk sedangkan tanah aluvial berasal dari hasil pelapukan tanaman
- C. tanah vulkanis berasal dari batuan sedangkan tanah aluvial berasal dari batuan endapan
- D. tanah vulkanis berasal dari abu hasil gunung api sedangkan tanah aluvial berasal dari hasil pengendapan

UAS-SMP-03-06

Peranan penting barang tambang bagi perekonomian Indonesia ...

- A. perekonomian negara menjadi stabil
- B. sebagian sumber devisa negara
- C. membuka lapangan kerja baru
- D. memajukan perekonomian negara

UAS-SMP-03-07

Kelompok yang termasuk jenis industri berat terdapat pada kolom ...

A	B	C	D
Mebel	Elektronik	Kapal	Mobil
Kereta Api	Batik	Mobil	Ukiran
Ukiran	Semen	Kereta Api	Batik
Panda	Mobil	Semen	Sepeda

UAS-SMP-03-08

Hubungan letak posisi Indonesia dengan kehidupan ekonomi penduduk adalah ...

- A. lalu lintas perdagangan semakin berkembang
- B. adanya ketergantungan terhadap negara maju
- C. sebagian penduduk Indonesia tinggal di desa
- D. ekspor hasil pertanian semakin meningkat

UAS-SMP-03-09

Perhatikan data berikut ini!

1. Sumatera
2. Jawa
3. Bali
4. Sulawesi
5. Kalimantan
6. Nusa Tenggara
7. Maluku

Pulau-pulau yang dapat dihubungkan dengan transportasi darat yang diberi nomor ...

- A. 1, 2, 3
- B. 1, 3, 5
- C. 2, 5, 7
- D. 4, 6, 7

UAS-SMP-03-10

Berdasarkan luasnya urutan nama-nama benua dari yang terbesar ke yang terkecil adalah ...

- A. Asia, Afrika, Amerika, Eropa
- B. Asia, Eropa, Afrika, Amerika, Australia
- C. Asia, Australia, Afrika, Amerika, Eropa
- D. Asia, Amerika, Afrika, Eropa, Australia

UAS-SMP-03-11

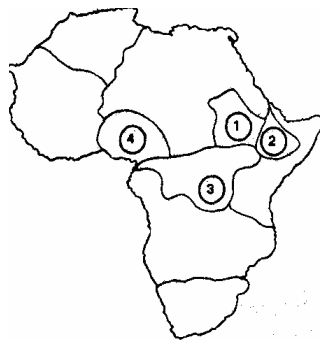
Di antara benua-benua di dunia, benua Asia memiliki keistimewaan khusus, yaitu ...

- A. benua Asia merupakan benua terkecil dan sedikit penduduknya
- B. benua Asia merupakan benua paling timur dan negara-negaranya sudah maju
- C. benua Asia merupakan benua terluas dan terbanyak penduduknya
- D. benua Asia merupakan benua paling barat dan negara-negaranya masih terbelakang

UAS-SMP-03-12

Berdasarkan peta di bawah ini, negara Kenya ditunjukkan dengan nomor ...

- A. 1
- B. 2
- C. 3
- D. 4



UAS-SMP-03-1

Kelompok negara-negara di kawasan Eropa Utara terdapat pada kolom ...

A	B	C	D
Irlandia	Belanda	Bulgaria	Denmark
Norwegia	Swedia	Hongaria	Belgia
Swedia	Inggris	Finlandia	Perancis
Finlandia	Perancis	Denmark	Yugoslavia

Penyebab terjadinya permasalahan penduduk di dunia adalah ...

- A. terjadinya ledakan penduduk yang sangat besar
- B. terjadinya angka kematian yang sangat tinggi
- C. terjadinya migrasi ilegal yang terselubung
- D. terjadinya angka kematian rendah

UAS-SMP-03-1

Tujuan utama APEC adalah ...

- A. untuk menjamin pertumbuhan yang berkesinambungan di kawasan Asia Pasifik
- B. untuk memperlancar pertumbuhan ekonomi dan politik di kawasan Asia Pasifik
- C. untuk memajukan pembangunan dan pertahanan kemiliteran di kawasan Asia Pasifik
- D. untuk mempererat hubungan kerja sama antarnegara di Asia Pasifik

UAS-SMP-03-14

Wilayah paling strategis untuk tempat tinggal penduduk Amerika Serikat terdapat di bagian ...

- A. Utara
- B. Barat
- C. Timur
- D. Selatan

UAS-SMP-03-18

Kota-kota besar yang merupakan daerah tujuan wisata di Indonesia:

1. Denpasar
2. Semarang
3. Bandung
4. Medan
5. Jakarta
6. Ujungpandang
7. Yogyakarta
8. Surabaya

Dari data di atas, 4 (empat) kota besar sebagai prioritas daerah tujuan wisata di Indonesia adalah ...

- A. 1, 3, 5, 7
- B. 2, 3, 6, 8
- C. 3, 4, 6, 8
- D. 4, 5, 7, 8

UAS-SMP-03-15

Potensi alam di gurun pasir terdapat pada kolom ...

A.	1. sebagai sebagai batas alam daerah antar daerah atau antarpenduduk 2. sebagai penghambat sedimen dan unsur hara
B.	1. untuk usaha tanaman perkebunan 2. oasis yang dapat dipergunakan untuk pemukiman
C.	1. sebagai sumber energi hidroelektrik 2. untuk pcmbangkit tenaga tenaga listrik
D.	1. oasis yang merupakan pusat pertanian, perdagangan, dan pertanian 2. tempat hasil tambang dan gas bumi

UAS-SMP-03-19

Keadaan bentang alam kawasan Asia barat adalah ...

- A. terdiri dari rangkaian pegunungan
- B. berupa plato/dataran tinggi dan padang pasir
- C. dataran rendah lebih dominan daripada dataran tinggi
- D. pada umumnya terdiri dari dataran rendah

UAS-SMP-03-20

Salah satu potensi pegunungan adalah ...

- A. lahan pemukiman bagi penduduk
- B. lahan kritis yang sulit dibudidayakan
- C. lahan yang menghasilkan berbagai barang tambang
- D. lahan pertanian yang tandus karena mengandung batuan

UAS-SMP-03-21

Berikut ini yang termasuk barang komplementer adalah ...

- A. sepeda motor dengan bensin
- B. nasi dengan jagung
- C. minyak dengan kayu bakar
- D. gelas dengan cangkir

UAS-SMP-03-22

Ira akan membeli sepatu di toko dengan tujuan memilih sepatu yang berkualitas baik dengan harga relatif murah, tindakan Ira tersebut sesuai dengan ...

- A. motif ekonomi
- B. hukum ekonomi
- C. prinsip ekonomi
- D. Politik ekonomi

UAS-SMP-03-23

Macam-macam tenaga kerja;

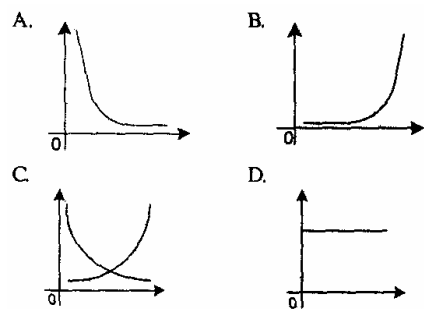
1. pesuruh
2. hakim
3. tukang jahit
4. sekretaris
5. sopir angkot
6. montir motor

Dari data di atas yang termasuk tenaga kerja terlatih ditunjukkan pada nomor ...

- A. 1, 2, dan 4
- B. 2, 4, dan 5
- C. 4, 5, dan 6
- D. 3, 5, dan 6

UAS-SMP-03-24

Di bawah ini yang menunjukkan kurva permintaan adalah ...



UAS-SMP-03-25

Sistem ekonomi yang dianut negara kita adalah ...

- A. sistem liberal
- B. demokrasi ekonomi
- C. sistem sosialis
- D. Sistem kapitalis

UAS-SMP-03-26

Tujuan utama koperasi adalah ...

- A. meningkatkan kesejahteraan seluruh rakyat
- B. meningkatkan kesejahteraan pengurus
- C. meningkatkan perolehan laba
- D. meningkatkan kesejahteraan anggota

UAS-SMP-03-27

Kegiatan usaha yang paling cocok dilakukan koperasi sekolah adalah ...

- A. produksi
- B. kredit
- C. konsumsi
- D. Jasa

UAS-SMP-03-28

Berikut ini adalah Badan Usaha Milik Daerah, *kecuali* ...

- A. BPD
- B. PT.PLN
- C. PDAM
- D. BPRBKPD

UAS-SMP-03-29

Tabel jenis pembelanjaan negara

No..	Jenis Pembelanjaan Negara
1.	Pembangunan jalan tol
2. 3. 4.	Perbaikan sarana pertokoan
	Diadakannya penataran

Dari data di atas yang termasuk jenis pembelanjaan pembangunan adalah ...

- A. 1, 2, dan 4
- B. 1,2, dan 3
- C. 1, 3, dan 4
- D. 2, 3, dan 4

UAS-SMP-03-30

Berikut ini yang termasuk pajak langsung adalah: ...

- A. beamaterai
- B. PPh
- C. PPn
- D. Pajak tontonan

UAS-SMP-03-31

Pak Hasan membeli televisi seharga Rp 1.2000.000,00. Dalam hal ini uang berfungsi sebagai ...

- A. alat tukar
- B. alat pembayaran
- C. alat penimbun kekayaan
- D. alat satuan hitung

UAS-SMP-03-32

Berikut ini yang termasuk uang giral adalah ...

- A. cek dan bilyet giro
- B. uang logam dan uang kertas
- C. kartu kredit dan uang logam
- D. telegraphic transfer dan uang kertas

UAS-SMP-03-33

Di bawah ini merupakan contoh Bank Umum Milik Negara ...

- A. BTN, BCA, BI
- B. Bank Mandiri, BI, BII
- C. BRI, Bank Mandiri
- D. BRI, Bank Lippo, BCA

UAS-SMP-03-34

Di bawah ini merupakan tujuan lembaga keuangan bukan bank, *kecuali* ...

- A. memberi pinjaman murah, cepat dan produktif
- B. memberikan kredit kepada masyarakat agar tidak jatuh ke tangan rentenir
- C. memberi jaminan hari tua bagi peserta
- D. mencari keuntungan yang sebesar-besarnya

UAS-SMP-03-35

Berikut ini yang bukan merupakan kegunaan devisa negara adalah ...

- A. mengekspor barang/jasa ke luar negeri
- B. mengirim kontingen olahraga ke luar negeri
- C. mengimpor barang dari luar negeri
- D. membiayai pinjaman dinas pejabat ke luar negeri

UAS-SMP-03-36

3,5% dari 7.455 kg adalah ...

- A. 26,09 kg
- B. 26,90 kg
- C. 260,95 kg
- D. 261,00 kg

UAS-SMP-03-37

Tuan Abdullah meminjamkan modal, kepada tiga orang dengan bunga yang sama, yaitu 6% setahun.

- 1. Bu Hasan sebanyak Rp 2.839.000,00 selama 25 hari
- 2. Pak Umarsebanyak Rp 74.000,00 selama 15 hari
- 3. Bu Subangun sebanyak Rp 1.744.750,00 selama 20 hari

Jadi jumlah bunga yang diterima Tuan Abdullah adalah ...

- A. Rp 20.000,00
- B. Rp 20.850,00
- C. Rp 20.380,00
- D. Rp 21.000,00

UAS-SMP-03-38

Potongan harga yang diberikan kepada pembeli, apabila pembelian dilakukan dalam jumlah besar adalah ...

- A. rabat
- B. potongan harga
- C. rafaksi
- D. tara

UAS-SMP-03-39

Harga pokok sepasang sepatu Rp 40.000,00. Pedagang mengharapkan laba 30%, dengan memberikan potongan tunai 2% dari biaya penjualan 10% dari harga tunai.

Maka harga jual kotor sepasang sepatu adalah ...

- A. Rp 58.950,69
- B. Rp 58,34
- C. Rp 58.950,69
- D. Rp 58.956,92

UAS-SMP-03-40

Ibu Fatimah membeli kompor gas dengan cara:

- 1. Tunai dengan harga Rp 460.000,00.
- 2. Pembelian dilakukan secara angsuran dengan uang muka Rp 30.000,00.

Angsuran pertama dilakukan satu bulan setelah pembelian, jumlah seluruh angsuran Rp 480.000,00.

Pemilik toko menentukan bunga 20% setahun.

Masa angsuran adalah ...

- A. 12 kali
- B. 13 kali
- C. 14 kali
- D. 15 kali

UAS-SMP-03-41

Ciri-ciri kehidupan manusia purba pada masa berburu dan berpindah-pindah adalah ...

- A. bersifat nomaden dan mengumpulkan bahan makanan (*food gathering*)
- B. hidup berkelompok dan sudah pandai bercocok tanam
- C. menetap dan menghasilkan makanan (*food producing*)
- D. menetap dan sudah pandai membuat alat-alat rumah tangga

UAS-SMP-03-42

Daftar barang dagangan:

No.	Jenis barang dagangan
1.	Kayu Cendana
2.	Gading
3.	Rempah-rempah
4.	Ukir-ukiran
5.	Tenunan halus
6.	Rotan

Dari daftar di atas, barang yang diangkut pedagang Cina dari India pada abad ke-16 ditunjukkan oleh nomor ...

- A. 1, 2, 3
- B. 2, 4, 6
- C. 2, 4, 5
- D. 3, 5, 6

UAS-SMP-03-43

Perubahan besar yang terjadi pada kebudayaan bangsa Indonesia akibat masuknya budaya India dalam bidang pemerintahan adalah ...

- A. berdirinya dinasti
- B. berdirinya kerajaan
- C. berkembangnya aturan kasta
- D. pemujaan terhadap dewa

UAS-SMP-03-44

Perhatikan gambar peta di bawah ini!



Daerah yang diarsir pada gambar peta di atas merupakan pusat pemerintahan kerajaan Islam adalah

- ...
- A. Kerajaan Banten
 - B. Kerajaan Samudera Pasai
 - C. Kerajaan Demak
 - D. Kerajaan Gowa - Tallo

UAS-SMP-03-45

Dalam menghadapi monopoli perdagangan VOC, Sultan Agung Tirtayasa menggunakan cara ...

- A. menguasai daerah penghasil lada di Sumatera Selatan
- B. menjalin hubungan dagang dengan Mataram dan Cirebon
- C. mengadakan perdagangan bebas dengan Inggris dan Pefancis
- D. mengadakan blokade ekonomi yang ketat

UAS-SMP-03-46

Belanda melaksanakan politik etis di Indonesia dengan maksud untuk ...

- A. memperbaiki kehidupan sosial bangsa Indonesia
- B. mendatangkan keuntungan untuk kepentingan Belanda
- C. meningkatkan pendidikan pemuda Indonesia
- D. meningkatkan taraf hidup bangsa Indonesia

UAS-SMP-03-47

Dampak revolusi industri di bidang sosial adalah ...

- A. barang-barang lebih banyak dan cepat dihasilkan
- B. menimbulkan urbanisasi bagi masyarakat desa
- C. lahan pertanian berubah menjadi lahan peternakan
- D. berdirinya pabrik-pabrik di lahan batas pertanian

UAS-SMP-03-48

Tujuan utama perjuangan dari Partai Nasional, Indonesia (PNI) adalah ...

- A. meningkatkan derajat bangsa
- B. mencapai Indonesia merdeka
- C. mengusahakan pemerintahan sendiri
- D. mempersatukan semua golongan

UAS-SMP-03-49

Perang Dunia II di kawasan Pasifik diawali oleh peristiwa ...

- A. penyerangan Jerman terhadap Polandia
- B. serbuan Jerman ke wilayah Prancis
- C. pendudukan Abyssinia oleh Prancis
- D. serbuan Jepang terhadap Pearl Harbour

UAS-SMP-03-50

Kebangkitan gerakan nasionalisme di negara-negara Asia-Afrika pada umumnya dipengaruhi oleh peristiwa besar, yakni ...

- A. kemenangan Jepang atas Rusia di selat Trusmi tahun 1904
- B. munculnya revolusi Rusia (1917) meningkatkan gerakan antikapitalisme
- C. munculnya revolusi industri yang menyebabkan adanya berbagai macam penemuan baru
- D. munculnya Atlantic Charter yang menjamin adanya hak setiap bangsa untuk menentukan nasibnya sendiri

UAS-SMP-03-51

Kebijakan pemerintah pendudukan Jepang yang bermanfaat untuk memperkuat rasa persatuan bangsa adalah ...

- A. berdirinya organisasi Putera dan Peta
- B. dibentuknya Gerakan Kebaktian Rakyat Jawa
- C. dibentuknya BPUPKI dan PPKI
- D. dibubarkannya partai-partai politik yang ada

UAS-SMP-03-52

Pernyataan tentang proklamasi kemerdekaan:

1. menunggu keputusan pemerintah Jepang
 2. dibicarakan dahulu melalui rapat PPKI
 3. segera dicetuskan dengan kekuatan sendiri
 4. berlangsungnya damai dengan bantuan Jepang
- Perbedaan pandangan antara golongan tua dan golongan muda tentang kemerdekaan ditunjukkan oleh pernyataan nomor ...
- A. 1 dan 3
 - B. 1 dan 4
 - C. 2 dan 3
 - D. 3 dan 4

UAS-SMP-03-53

Salah satu isi perjanjian Renville yang merugikan Republik Indonesia adalah ...

- A. Belanda mengakui kedaulatan secara de facto negara RI atas Sumatera, Jawa, dan Madura
- B. RI dan Belanda akan bekerja sama membentuk negara Indonesia Serikat dan RI sebagai negara bagindari RIS
- C. Negara Indonesia Serikat dengan Belanda akan bersatu menjadi UNI Indonesia - Belanda yang diketuai oleh ratu Belanda
- D. Daratan RI yang diduduki Belanda sebagai hasil agresinya yang pertama diakui oleh Indonesia sebagai daerah Belanda

UAS-SMP-03-54

Perjuangan menentang kekuasaan asing yang ingin kembali menjajah Indonesia di Semarang disebut ...

- A. insiden Merah Putih
- B. pertempuran Margarana
- C. Serangan Umum 1 Maret 1949
- D. pertempuran lima hari

UAS-SMP-03-55

Gejala ketidakstabilan politik pada masa demokrasi liberal antara lain ditunjukkan dengan adanya pertentangan antara ...

- A. polisi dengan TNI-AD
- B. Presiden dengan DPR
- C. DPR dengan Konstituante
- D. Presiden dengan TNI

UAS-SMP-03-56

Operasi militer yang dijalankan untuk menumpas PRRI di Sumatera di bawah pimpinan Kolonel Ahmad Yani disebut ...

- A. Operasi Merdeka
- B. Operasi Banteng
- C. Operasi 17 Agustus
- D. Operasi Mena II

UAS-SMP-03-57

Sasaran penumpasan G 30 S/PKI yang dipimpin oleh Letkol. Sarwo Edi Wibowo di pusat, yaitu ...

- A. menutup kantor-kantor cabang PKI di Jakarta
- B. merebut kembali Radio Republik Indonesia
- C. meniadakan tokoh-tokoh PKI agar segera menyerah
- D. menyatakan PKI sebagai organisasi terlarang

UAS-SMP-03-58

Presiden Afrika Selatan yang memelopori penghapusan UU Apartheid, yaitu ...

- A. Nelson Mandela
- B. P.W. Botha
- C. Verwoerd
- D. DerKlerek

UAS-SMP-03-59

Pada masa demokrasi terpimpin, pelaksanaan politik luar negeri bebas aktif ditujukan untuk mengejar kepentingan politik mercusuar. Yang dimaksud dengan politik mercusuar, yaitu ...

- A. politik luar negeri yang ditujukan untuk mengabdikan kepada kepentingan nasional
- B. politik luar negeri yang ditujukan untuk mengabdikan kepada kepentingan dunia internasional
- C. politik yang hanya mengejar kemegahan di tengah-tengah pergaulan antarbangsa
- D. politik luar negeri yang dijalankan sesuai dengan amanat pembukaan UUD1945

UAS-SMP-03-60

Dasar pertimbangan Indonesia kembali menjadi anggota Perserikatan Bangsa Bangsa ...

- A. agar Indonesia terpilih menjadi DK PBB
- B. agar Indonesia menjadi negara-negara super power di Asia Tenggara
- C. agar dapat menanamkan pengaruh terhadap dunia internasional
- D. agar Indonesia banyak memperoleh keuntungan saat menjadi anggota PBB