

Evaluasi Belajar Tahap Akhir Nasional
Tahun 2000
Ilmu Pengetahuan Sosial

EBTANAS-SMP-00-01

Yang termasuk fungsi peta umum sebagai alat peraga adalah untuk ...

- A. menentukan letak tempat di suatu wilayah
- B. mengetahui keadaan cuaca suatu tempat
- C. menentukan jumlah penduduk suatu wilayah
- D. mengetahui perkembangan kota di suatu tempat

EBTANAS-SMP-00-02

Letak astronomis Indonesia adalah ...

- A. 6° LU - 11° LS dan 95° BT - 141° BT
- B. 6° LU - 11° LU dan 95° BT - 141° BT
- C. 6° LU - 11° LS dan 95° BB - 141° BB
- D. 6° LS - 11° LS dan 95° BB - 141° BT

EBTANAS-SMP-00-03

Perbedaan khas geologis Indonesia bagian timur dan Indonesia bagian tengah adalah ...

- A. bagian timur terletak di Dangkalan Sahul dan bagian tengah di laut dalam
- B. Indonesia tengah terletak di Dangkalan Sunda dan bagian timur di laut dalam
- C. bagian timur terletak di Dangkalan Sunda dan Indonesia tengah di laut dalam
- D. Indonesia timur terletak di Dangkalan Sahul dan bagian tengah di Dangkalan Sunda

EBTANAS-SMP-00-04

Contoh flora asli Indonesia adalah ...

- A. angsana, borneo, dan cendana
- B. kenanga, ketapang, dan cempaka
- C. cemara, meranti, dan pinus
- D. kamper, eboni, dan akasia

EBTANAS-SMP-00-05

Upaya untuk meningkatkan mutu sumber daya manusia Indonesia adalah ...

- A. memperluas kesempatan kerja
- B. meningkatkan program industrialisasi
- C. melaksanakan program wajib belajar
- D. meningkatkan keterampilan masyarakat

EBTANAS-SMP-00-06

Suku bangsa yang terdapat di Irian Jaya (Papua Barat) yaitu ...

- A. Sentani, Biak, Marindanim, dan Asmat
- B. Biak, Tanimbar, Lanan, dan Sentani
- C. Asmat, Marindanim, Minahasa, dan Sangir
- D. Minahasa, Sangir, Ternate, dan Kei

EBTANAS-SMP-00-07

Persamaan keadaan alam Indonesia dengan Malaysia adalah ...

- A. bersama-sama berada di benua Asia
- B. wilayahnya dilalui pegunungan Mediterania
- C. kedua-duanya berbentuk kepulauan
- D. daerahnya terletak di Dangkalan Sahul

EBTANAS-SMP-00-08

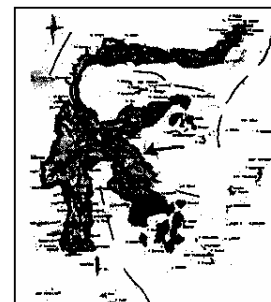
Tanah di pulau Jawa sangat subur, karena sering mengalami ...

- A. banjir yang berkepanjangan,
- B. peremajaan dari gunung berapi
- C. pengolahan tanah yang teratur
- D. pemakaian pupuk yang baik

EBTANAS-SMP-00-09

Barang tambang yang dihasilkan daerah Sulawesi yang tunjuk oleh tanda pada gambar di samping adalah ...

- A. tembaga
- B. bijih besi
- C. nikel
- D. apal



EBTANAS-SMP-00-10

Bentuk-bentuk pertanian di Indonesia meliputi:

1. sawah
2. tegalan
3. ladang
4. kebun
5. pekarangan

Dari bentuk pertanian di atas, yang memanfaatkan lahan kering ditunjukkan nomor ...

- A. 1 dan 3
- B. 1 dan 4
- C. 1 dan 5
- D. 2 dan 3

EBTANAS-SMP-00-11

Perikanan air payau dilakukan di daerah ...

- A. muara sungai dan pantai
- B. lepas pantai dan danau
- C. pinggir pantai dan sungai
- D. muara sungai dan danau

EBTANAS-SMP-00-12

Yang termasuk objek wisata di Jawa Timur adalah ...

- A. Candi Jago, Gunung Bromo, dan Telaga Sarangan
- B. Pantai Samas, Museum Seni Budoyo, Karapan Sapi
- C. Museum Trowulan, Candi Mendut, dan Parang-teritis
- D. Candi Singosari, Gunung Tengger, dan Gajah Mungkur

EBTANAS-SMP-00-13

Yang termasuk ciri dari benua adalah ...

- A. daratan yang sangat luas dengan iklim laut
- B. wilayah sangat luas dengan pengaruh angin laut
- C. daerah sangat luas dengan tidak ada pengaruh angin laut
- D. dataran yang iklimnya dipengaruhi angin laut

EBTANAS-SMP-00-14

Bangsa di dunia yang memiliki stasiun penelitian bersama di Kutub Selatan adalah ...

- A. Australia, Belanda, Inggris, dan Argentina
- B. Amerika Serikat, Chili, Belgia, dan Prancis
- C. Jepang, Rusia, Selandia Baru, dan Kanada
- D. Norwegia, Afrika Selatan, Cina, dan Italia

EBTANAS-SMP-00-15

Pegunungan di Asia:

1. Pegunungan Elbuz
2. Pegunungan Bindukush
3. Pegunungan Altai
4. Pegunungan Himalaya
5. Pegunungan Anatolia
6. Pegunungan Ghats Timur
7. Pegunungan Arakan Yoma

Dari daftar di atas, pegunungan yang terdapat di India adalah nomor ...

- A. 1, 3, dan 5
- B. 2, 4, dan 6
- C. 4, 5, dan 7
- D. 5, 6, dan 7

EBTANAS-SMP-00-16

Titik tertinggi dan titik terendah di dunia adalah ...

- A. Gunung Everest dan Laut Kaspia
- B. Gunung Everest dan Laut Mati
- C. Gunung Fuji dan Laut Mati
- D. Gunung Aconcagua dan Laut Hitam

EBTANAS-SMP-00-17

Negara Mesir pada peta di samping ditunjukkan dengan huruf ...

- A. P
- B. Q
- C. R
- D. S



EBTANAS-SMP-00-18

Nama pegunungan di Eropa;

I	II	III	IV
Elbruz	Pyrenia	Anatolia	Jura
Kaukasus	Alpen	Balkan	Skandinavia
Ural	Karpatia	Apenina	Skotlandia

Dari tabel di atas, pegunungan yang terletak di perbatasan Asia dan Eropa terdapat pada kolom ...

- A. I
- B. II
- C. III
- D. IV

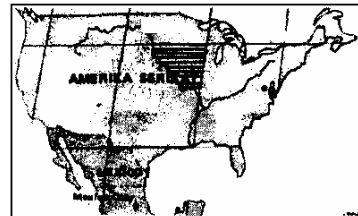
EBTANAS-SMP-00-19

Negara yang termasuk Eropa Tengah adalah ...

- A. Jerman, Polandia, dan Hungaria
- B. Austria, Slowakia, dan Luxemburg
- C. Macedonia, Cheko, dan Kroasia
- D. Swiss, Belarusia, dan Rumania

EBTANAS-SMP-00-20

Bagian yang diarsir pada peta di atas adalah daerah aliran ...



- A. Sungai Rio Grande
- B. Sungai Columbia
- C. Sungai Mississippi
- D. Sungai Colorado

EBTANAS-SMP-00-21

Daftar kebutuhan

No.	Barang/jasa
1,	pendidikan
2.	hiburan
3.	pakaian
4.	makan
5	rekreasi

Dari daftar di atas, yang termasuk contoh kebutuhan rohani terdapat pada nomor ...

- A. 1, 2, dan 3
- B. 1, 2, dan 5
- C. 1, 4, dan 5
- D. 2, 3, dan 4

EBTANAS-SMP-00-22

Barang yang dalam penggunaannya dapat saling menggantikan disebut barang ...

- A. komplementer
- B. substitusi
- C. produksi
- D. konsumsi

EBTANAS-SMP-00-23

Salah satu contoh kegiatan produksi adalah ...

- A. mesin dipergunakan untuk membuat barang
- B. kain yang sudah menjadi pakaian
- C. mobil untuk bepergian
- D. rumah untuk tempat tinggal

EBTANAS-SMP-00-24

Daftar modal

No.	Barang/Jasa
1.	Uang tunai
2.	Gedung
3.	Masin-mesin
4.	Simpanan di bank
5.	Kendaraan bermotor
6.	Bahan mentah

Dari daftar di samping yang termasuk modal tetap adalah nomor ...

- A. 1, 3, dan 6
- B. 1, 4, dan 6
- C. 2, 3, dan 5
- D. 2, 4, dan 5

EBTANAS-SMP-00-25

PT. Pupuk Kujang, PT. Semen Baturaja, dan Nasional Gobel merupakan contoh dari jenis perusahaan ...

- A. otomotif
- B. industri
- C. pertanian
- D. jasa

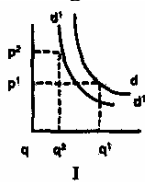
EBTANAS-SMP-00-26

Mengatur pengeluaran atau pembelian barang sesuai dengan prioritas kebutuhan disebut ...

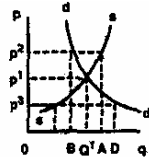
- A. pola konsumsi
- B. perilaku konsumen
- C. pengertian konsums
- D. kegiatan konsumsi

EBTANAS-SMP-00-27

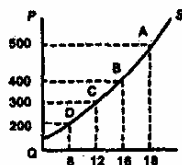
Perhatikan gambar!



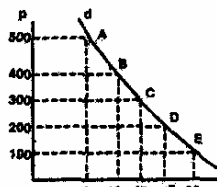
I



III



II



IV

Berdasarkan kurva di atas yang termasuk keseimbangan ditunjukkan oleh angka romawi

- A. I
- B. II
- C. III
- D. IV

EBTANAS-SMP-00-28

Tabel Ciri-ciri Perekonomian

I	II	III	IV
a. pengelolaan kegiatan ekonomi diatur sepenuhnya oleh pemerintah	a. alat produksi dikuasai negara	a. usaha bersama berdasarkan atas kekeluargaan	a. ada kebebasan dalam kepemilikan modal
b. hak milik perorangan tidak diakui	b. tidak ada kebebasan memiliki barang dan berusaha	b. tidak ada persaingan	b. ada kebebasan dalam persaingan

Dari tabel di atas, yang merupakan ciri perekonomian liberal terdapat pada kolom ...

- A. I
- B. II
- C. III
- D. IV

EBTANAS-SMP-00-29

Fungsi koperasi dalam kehidupan ekonomi adalah ...

- A. memperkokoh perekonomian anggota dan masyarakat
- B. memenuhi kebutuhan ekonomi anggota pengurus
- C. meningkatkan pendapatan anggota dan pemerintah
- D. membantu kehidupan ekonomi masyarakat dan negara

EBTANAS-SMP-00-30

Tujuan pemerintah daerah dalam melakukan kegiatan ekonomi adalah ...

- A. memperoleh laba semaksimal mungkin untuk tabungan daerah
- B. melayani kepentingan umum masyarakat daerah
- C. memupuk pendapatan untuk membayar pinjaman negara
- D. memperoleh penghasilan untuk kepentingan belanja pemerintah daerah

EBTANAS-SMP-00-31

Perhatikan data berikut!

1. pegawai dan alat kantor
2. pajak langsung
3. subsidi daerah
4. pajak tidak langsung
5. belanja perjalanan dinas

Dari data di atas, yang termasuk jenis pengeluaran rutin pemerintah adalah nomor ...

- A. 1, 2, dan 3
- B. 1, 2, dan 4
- C. 1, 2, dan 5
- D. 1, 3, dan 5

EBTANAS-SMP-00-32

Cara penetapan pajak pendapatan dan pajak kekayaan dengan persentase yang meningkat sesuai dengan pertambahan pendapatan sampai pada batas tertentu disebut ...

- A. pajak proportional
- B. pajak defesif
- C. pajak progresif
- D. pajak tetap

EBTANAS-SMP-00-33

Fungsi asli uang adalah sebagai alat ...

- A. pembayaran
- B. pembentuk harga
- C. menabung
- D. tukar

EBTANAS-SMP-00-34

Lembaga keuangan yang dibentuk dengan tujuan untuk menghimpun dan menyalurkan dana dari masyarakat adalah ...

- A. koperasi
- B. bursa
- C. bank
- D. asuransi

EBTANAS-SMP-00-35

Yang termasuk hambatan dalam perdagangan antarnegara adalah ...

- A. perbedaan penduduk
- B. kesiapan tenaga terampil tidak sama
- C. pendapatan per kapita antarnegara
- D. tarif impor yang tinggi

EBTANAS-SMP-00-36

Tuan Andi meminjam uang di bank sebesar Rp 5.000.000,00 dengan bunga 25% setahun. Besarnya bunga pinjaman setelah dua tahun adalah ...

- A. Rp 1.200.000,00
- B. Rp 1.250.000,00
- C. Rp 2.500.000,00
- D. Rp 3.500.000,00

EBTANAS-SMP-00-37

Pak Hardi meminjam uang di bank sebesar Rp 100.000,00 dengan dasar bunga $1\frac{1}{2}\%$ per bulan.

Bunga uang yang harus dibayar oleh pak Hardi setelah 1 bulan adalah ...

- A. Rp 125,00
- B. Rp 150,00
- C. Rp 1.500,00
- D. Rp 15.000,00

EBTANAS-SMP-00-38

Pengertian perdagangan adalah kegiatan yang dilakukan ...

- A. untuk membeli dan menjual barang guna mendapatkan keuntungan
- B. badan usaha yang bertujuan untuk menghasilkan sesuatu barang
- C. untuk menyalurkan barang hingga sampai ke konsumen
- D. untuk menambah manfaat suatu barang sehingga lebih berguna

EBTANAS-SMP-00-39

Perusahaan sepatu memproduksi 1.000 pasang sepatu dengan bahan baku tiap pasang Rp 10.000,00 upah pekerja tiap pasang sepatu Rp 2.500,00 biaya produksi tak langsung Rp 2.000,00 sedangkan biaya pemasaran Rp 2.500.000,00. jadi harga pokok penjualan tiap sepasang sepatu adalah ...

- A. Rp 10.000,00
- B. Rp 12.500,00
- C. Rp 14.500,00
- D. Rp 17.000,00

EBTANAS-SMP-00-40

Sebuah lemari es dijual secara angsuran, harga tunai Rp 1.500.000,00. Uang muka Rp 450.000,00 diangsur selama 12 kali dengan bunga 30% setahun. Hitunglah besarnya setiap kali angsuran?

- A. Rp 113.750,00
- B. Rp 114.748,75
- C. Rp 124.500,00
- D. Rp 136.500,00

EBTANAS-SMP-00-41

Ciri kehidupan manusia purba pada masa berburu adalah ...

- A. tempat tinggal berpindah-pindah
- B. belum mengenal tulisan
- C. telah menetap di suatu tempat
- D. sudah pandai bercocok tanam

EBTANAS-SMP-00-42

Kerajaan Sriwijaya tumbuh sebagai negara maritim yang besar di Asia Tenggara karena letaknya yang strategis yaitu berada di ...

- A. antara Benua Australia dan Asia
- B. jalur perdagangan nasional
- C. jalur perdagangan India dan Cina
- D. jalur perdagangan Melayu dan Cina

EBTANAS-SMP-00-43

Peranan jalan sutera dalam perdagangan adalah ...

- A. mendorong pedagang menjual sutera
- B. memperlancar hubungan perdagangan melalui jalan darat
- C. mempersingkat perjalanan antara Cina dan India
- D. menghambat hubungan dagang melalui jalur laut

EBTANAS-SMP-00-44

Peranan kerajaan Samudera Pasai pada abad ke-12 adalah sebagai;..

- A. pusat perdagangan utama di Indonesia
- B. pusat pelayaran terbesar di Indonesia
- C. pusat penyebaran agama Islam pertama di Indonesia
- D. benteng pertahanan untuk melawan Portugis

EBTANAS-SMP-00-45

Perubahan yang terjadi di Indonesia akibat pelaksanaan UU Agraria tahun 1870 yaitu ...

- A. mulai diberlakukan politik pintu terbuka
- B. kehidupan rakyat mulai meningkat
- C. tanah pertanian dikembalikan kepada rakyat
- D. tanam paksa tebu dan nila dihapuskan

EBTANAS-SMP-00-46

Tumbuhnya kota-kota industri setelah revolusi industri menyebabkan ...

- A. tenaga kerja tidak dibutuhkan di bidang industri
- B. timbulnya pertentangan di antara pemilik modal
- C. meningkatnya kriminalitas di kota-kota besar
- D. terjadi urbanisasi besar-besaran ke kota industri

EBTANAS-SMP-00-47

Peranan organisasi Budi Utomo pada masa pergerakan nasional adalah ...

- A. memajukan pertanian, peternakan, dan perdagangan
- B. mempertegas semangat nasionalisme Indonesia.
- C. memajukan pengajaran dan meningkatkan derajat bangsa
- D. memperjelas tujuan perjuangan bangsa mewujudkan kemerdekaan

EBTANAS-SMP-00-48

Latar belakang Perang Dunia II adalah ...

- A. serbuan Jerman atas Swedia
- B. serbuan Jerman atas Polandia
- C. percobaan kudeta Hitler di Berlin
- D. berkuasanya militer di Jepang

EBTANAS-SMP-00-49

Salah satu upaya yang dilakukan bangsa Indonesia dalam mempersiapkan negara Indonesia merdeka adalah ...

- A. membentuk PPKI yang diketuai oleh Ir. Soekarno
- B. menetapkan Piagam Jakarta sebagai Pembukaan UUD45
- C. membentuk Komite Nasional Indonesia
- D. menyusun Undang-Undang Dasar

EBTANAS-SMP-00-50

Tujuan para pemuda mengamankan Soekarno dan Hatta ke Rengasdengklok pada tanggal 16 Agustus 1945 adalah agar ...

- A. Soekarno - Hatta tidak diculik Jepang
- B. para pemuda mudah menemui Soekarno - Hatta
- C. Soekarno - Hatta tidak terpengaruh oleh Jepang
- D. Para pemuda mudah membujuk Soekarno - Hatta

EBTANAS-SMP-00-51

Pada tanggal 19 Agustus 1945 Presiden Soekarno menyusun kelengkapan pemerintah untuk ...

- A. menghadapi kekuatan asing
- B. menegakkan kehidupan demokrasi
- C. menggali potensi rakyat yang ada
- D. menjamin kelangsungan-hidup negara

EBTANAS-SMP-00-52

Tindak lanjut hasil perundingan Roem-Royen yaitu ...

- A. Belanda akan menyerahkan kedaulatan kepada RI
- B. pembentukan APRIS dengan TNI sebagai intinya
- C. pembubaran KNIL dan memasukkan bekas anggotanya dalam APRIS
- D. Belanda menyetujui kembalinya pemerintah RI ke Yogyakarta

EBTANAS-SMP-00-53

Latar belakang terjadinya gerakan Andi Azis tanggal 5 April 1950 di Makasar adalah ...

- A. melemahnya pertahanan Indonesia
- B. mempertahankan berdirinya negara Indonesia Timur
- C. merencanakan pembunuhan menteri-menteri RIS
- D. ingin membentuk Republik Maluku Selatan

EBTANAS-SMP-00-54

Perhatikan pernyataan di bawah ini! ,

1. Negara-negara di Asia Afrika mempunyai persamaan nasib
2. PBB dikuasai oleh Amerika Serikat
3. Terancamnya perdamaian dunia karena pertentangan Blok Barat - Timur
4. India bersengketa dengan Pakistan karena perbedaan agama

Latar belakang diselenggarakan Konferensi Asia Afrika tahun 1955 ditunjukkan pada nomor ...

- A. 1 dan 2
- B. 1 dan 3
- C. 2 dan 4
- D. 3 dan 4

EBTANAS-SMP-00-55

Tindakan pemerintah di bidang politik setelah dikeluarkan Dekrit Presiden 5 Juli 1959 adalah ...

- A. membubarkan beberapa partai politik
- B. membentuk badan MPRS dan DRAS
- C. presiden memegang seluruh kekuasaan negara
- D. kedudukan MPR berada di bawah presiden

EBTANAS-SMP-00-56

Isi pokok persetujuan New York 15 Agustus 1962 yang diadakan dalam rangka pembebasan Irian Barat adalah ...

- A. pemerintah RI segera mengadakan penentuan pendapat rakyat (Pepera)
- B. Irian Barat harus diserahkan kepada PBB paling lambat 10 Oktober 1962
- C. Bendera Indonesia mulai dikibarkan di wilayah Irian Barat
- D. UNTEA menyerahkan Irian Barat kepada Indonesia 1 Desember 1963

EBTANAS-SMP-00-57

Latar belakang Gerakan Nonblok:

1. perang dingin antara blok barat dan blok timur
2. mengimbangi kekuatan negara-negara adikuasa
3. kolonialisme dan imperialisme masih ada
4. membentuk negara-negara dunia ketiga

Yang termasuk latar belakang pembentukan Gerakan Non Blok pada pernyataan di atas ditunjukkan nomor ...

- A. 1 dan 2
- B. 1 dan 3
- C. 2 dan 4
- D. 3 dan 4

EBTANAS-SMP-00-58

Penyebab Indonesia terkucil dari pergaulan internasional pada masa Orde Lama adalah ...

- A. Indonesia keluar dari keanggotaan PBB
- B. Indonesia menjalin hubungan dagang dengan RRC
- C. Indonesia masuk anggota Oldefo
- D. diadakannya pesta olahraga Oldefo

EBTANAS-SMP-00-59

Berikut ini yang tidak termasuk usaha-usaha pemerintah Orde Baru dalam menata dan meluruskan kembali kebijaksanaan politik luar negeri adalah ...

- A. normalisasi hubungan diplomatik dengan Malaysia
- B. aktif kembali menjadi anggota PBB
- C. memprakarsai berdirinya Gerakan Non Blok
- D. membentuk poros Jakarta-Peking

EBTANAS-SMP-00-60

Akibat adanya gerakan rakyat (people power) di Filipina adalah ...

- A. tumbangnya rezim Marcos dan munculnya pemerintahan militer
- B. munculnya kemenangan partai oposisi yang berhaluan radikal
- C. tumbangnya rezim Marcos dan terpilihnya Cory Aquino
- D. terjadinya kudeta berdarah dari golongan komunis terhadap Marcos